

Les triangles

Je suis ...

J'ai trois côtés.

J'ai trois angles.

Mes 3 côtés sont de la même longueur.

Je n'ai que des angles aigus.

J'ai deux côtés de la même longueur.

Un de mes angles est obtus.


Mes côtés ont des longueurs différentes.

J'ai un angle droit.

Mes trois angles sont égaux.

J'ai deux angles égaux.


Le triangle équilatéral



Mes 3 côtés sont de la même longueur.

Mes trois angles sont égaux.


Le triangle isocèle rectangle



J'ai deux côtés de la même longueur.

J'ai un angle droit.

Le triangle isocèle acutangle



J'ai deux côtés de la même longueur.

Je n'ai que des angles aigus.


Le triangle isocèle obtusangle



J'ai deux côtés de la même longueur.

Un de mes angles est obtus.


Le triangle scalène rectangle



Mes côtés ont des longueurs différentes.

J'ai un angle droit.


Le triangle scalène obtusangle



Mes côtés ont des longueurs différentes.

Un de mes angles est obtus.

Le triangle scalène acutangle.





Mes côtés ont des longueurs différentes.

Je n'ai que des angles aigus.

Les caractéristiques des triangles Livret de contrôle



Les triangles	scalène	isocèle	équilatéral
acutangle			
obtusangle			
rectangle			



Nom du triangle	Angle A	Angle B	Angle C	Somme des angles

Règle :